



النموذج التدريبي لامتحان مادة الاقتصاد الفصل الدراسي الثاني للصف الثاني عشر  
للقسم الأدبي للعام الدراسي 2012 / 2013 م

أجب عن الأسئلة الآتية :

السؤال الأول

أولاً : صحح ما تحته خط في العبارات الآتية، واكتب ما تم تصحيحه بين القوسين :

- 1- السمر من أنواع شجيرات إقليم البحر المتوسط . (.....)
- 2- يعرف السجل الذي يتضمن حالات المواليد والوفيات والهجرة والزواج والطلاق بالتعداد السكاني. (.....)
- 3- تعد جيبوتي أقل دول الوطن العربي من حيث عدد السكان . (.....)
- 4- العنصر المناخي الرئيس الذي يعتمد عليه في التمييز بين الأقاليم المناخية هو الضغط الجوي. (.....)
- 5- البحرين أكبر الدول العربية من حيث ارتفاع نسبة فئات صغار السن . (.....)

ثانياً : 6- استكمل المقارنة بين الإقليم المناخي شبه الاستوائي، وشبه الصحراوي في الوطن العربي وفق معطيات الجدول الآتي:

شبه الصحراوي	شبه الاستوائي	الإقليم المناخي وجه المقارنة
المناطق الداخلية من بلاد المغرب العربي وشمال مصر وليبيا باستثناء إقليم برقة	.....	التوزيع الجغرافي
.....	تسقط معظم شهور السنة وهي من نوع التصاعدي	الخصائص المناخية (الأمطار)
بغداد	.....	مدينة يتمثل فيها المناخ
الحشائش المعتدلة (الإستبس).	.....	نوع النبات السائد

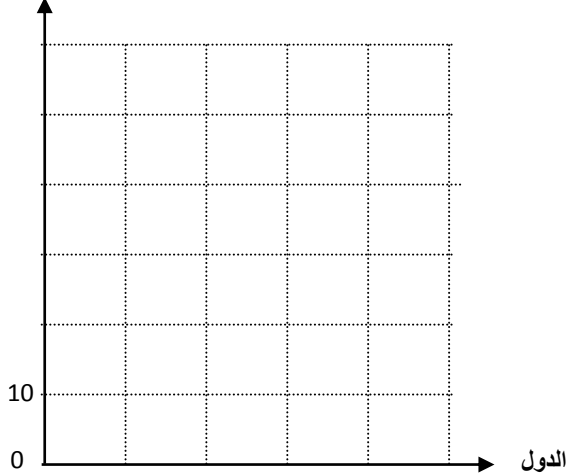
ثالثاً :

أعط مثالاً واحداً من الوطن العربي تدل فيه على صحة الحقائق الآتية :

- 7- تقل الكثافة السكانية في بعض المناطق الجبلية.  
.....
- 8- يشارك الوطن العربي في استغلال مياه الأنهار الدولية دول خارجية .  
.....
- 9- تنتشر بعض الظواهر الاجتماعية السلبية بسبب الهجرات الأجنبية للوطن العربي .  
.....
- 10- تتعدد الدول العربية المرسلة للكفاءات والقوى العاملة .  
.....

■ في ضوء قراءتك للجدول الذي أمامك، أجب عن الأسئلة التالية :

نسبة الريف %



نسبة سكان الحضر و الريف في بعض دول الوطن العربي		البيان الدولة
الريف %	الحضر %	
19	81	الإمارات
13	87	لبنان
40	60	المغرب
57	43	مصر
62	38	السودان
-	100	الكويت

11- استخرج من الجدول حقيقة جغرافية تتعلق بدولة الكويت.

.....

12- بم تفسر ارتفاع نسبة :

• سكان الحضر في دول الخليج العربي الواردة في الجدول ؟

.....

• سكان الريف في دول وادي النيل ؟

.....

13- مثل على الرسم البياني بطريقة الأعمدة نسبة سكان الريف في كل من: (الإمارات - المغرب).

### السؤال الثاني

أولاً: ضع دائرة حول الإجابة الصحيحة من بين البدائل التي تلي كل عبارة فيما يأتي :

14. يبلغ المعدل السنوي لدرجة الحرارة أدنى حد له في الوطن العربي في المملكة المغربية بمدينة :

( مراكش - ميدليت - الدار البيضاء - فاس ).

15. هبطت معدلات الوفيات إلى أدنى مستوياتها في بعض الدول العربية عام 2007م من مثل :

( الإمارات - الصومال - السودان - جيبوتي ).

16. يتمثل مناخ الإقليم الموسمي ذو الأمطار الصيفية بصورة واضحة في :

( سهول الريف - مدينة ملكال - إقليم برقة - مدينة تعز ).

17. تسجيل البيانات ذات العلاقة بالفرد نفسه منفصلاً عن غيره يسمى :

( أنية التعداد - العد الفردي - شمولية التعداد - انتظام التعداد ).

18. الرياح التي تهب على معظم أنحاء الوطن العربي ومصدرها مناطق الضغط المرتفع السيبيري فوق أوراسيا هي :




( العكسية الغربية - الجنوبية الغربية - الشمالية الشرقية - الجنوبية الشرقية ).

19. من الدول العربية التي يقل فيها معدل النمو السكاني عن ( 2% ) :

( الكويت - البحرين - تونس - اليمن ).

ثانياً :

20. أمعن النظر في الأشكال الجغرافية التي أمامك، ثم استنتج ما يشير إليه السهم وسجل الإجابة في الفراغ المحدد أسفل كل منها:

 <p>السودان</p>	 <p>البحر المتوسط</p>	 <p>الخليج العربي</p>
<p>نوع النبات الطبيعي السائد هو: .....</p>	<p>رياح محلية هي: .....</p>	<p>دولة عربية مستقبلة للقوى العاملة هي: .....</p>

21. اكتب اثنين من العوامل المؤثرة في الآتي :

➤ تنوع الأقاليم المناخية والنباتية في الوطن العربي .

- .....
- .....

➤ هجرة الكفاءات العربية إلى خارج الدول العربية .

- .....
- .....

ثالثاً : وضح نتيجتين ترتبتا على الوطن العربي جراء الآتي :

22. وجود منابع نهري دجلة والفرات في دولة غير عربية .

- .....
- .....

23. قلة توافر التعدادات السكانية وعدم انتظامها.

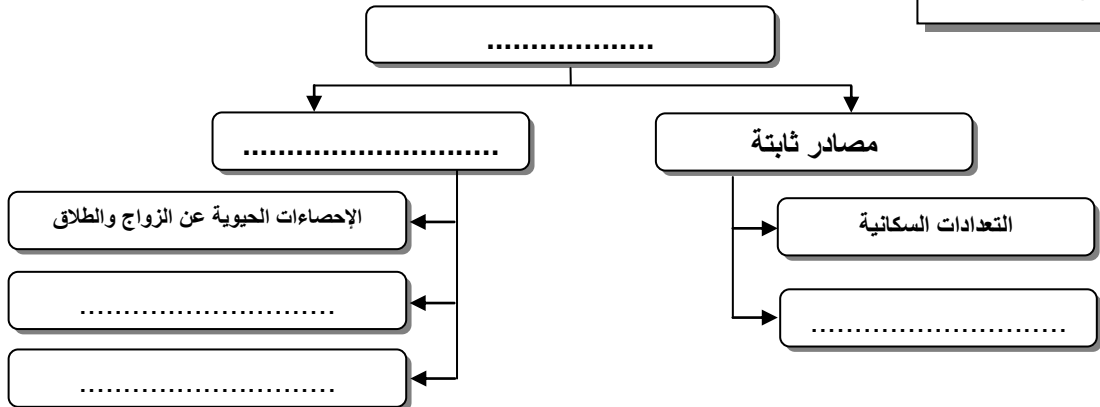
- .....
- .....

24. هبوب الرياح المحلية.

- .....
- .....

أولاً : 25- استكمل المخطط الذهني الآتي :

السؤال الثالث



26. سجل مقترحين اثنين لتحقيق الآتي:

➤ الأمن المائي العربي.

- .....
- .....

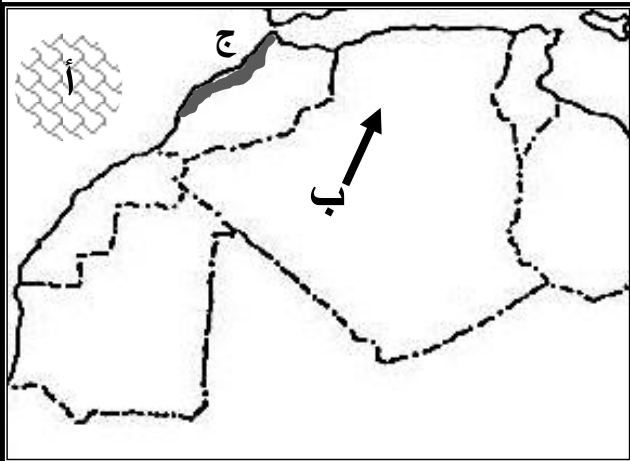
➤ الحد من هجرة سكان من الريف إلى المدن العربية .

- .....
- .....

ثانياً : 27- اكتب اسم المفهوم/المصطلح أو التعريف أمام ما يناسب في الجدول الآتي :

اسم المفهوم/ المصطلح الجغرافي	العبارات ( التعريف )
(.....)	- المصدر الرئيس لدراسة حجم السكان ، وتركيبهم في تاريخ محدد وفي منطقة معينة.
الأمن المائي	- .....
(.....)	- إقليم مناخي يتسم بالقارية وارتفاع كبير في المدى الحراري اليومي والسنوي .
(.....)	- تقسيم عدد السكان في منطقة معينة على مساحة من الأرض المستغلة فعلاً .

ثالثاً : تأمل خريطة المغرب العربي التي أمامك ، ثم أجب عن الأسئلة الآتية :



28- حدد على الخريطة منطقة تمثل المناخ المداري (السوداني)

مستخدماً التظليل المرفق .

29. اكتب دلالات الأحرف الواردة على الخريطة .

- يشير الحرف ( أ ) إلى منطقة ضغط مرتفع هي .....
- يدل الحرف ( ب ) على رياح محلية هي .....

30. بم تفسر الآتي :

➤ امتداد نطاق الأمطار في بلاد المغرب

العربي من الغرب للشرق؟

- .....
- .....

➤ ازدحام السكان في المنطقة المشار إليها بالحرف ( ج ) .

- .....
- .....

( انتهت الأسئلة مع التمنيات لكم بالنجاح والتوفيق )